



Adı Soyadı :

Numarası :

Konu: Sayı Örüntüleri Etkinliği 3

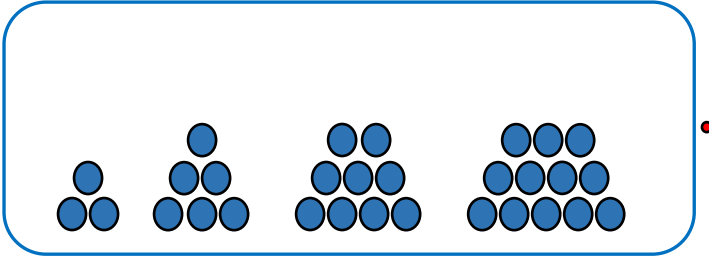
Aşağıdaki sayı örüntülerinin kurallarını bulup kutulara yazalım.

- 27, 36, 45, 54, 63, 72, 81 Kural:
- 52, 57, 62, 67, 72, 77, 82 Kural:
- 11, 12, 14, 17, 21, 26, 32 Kural:
- 83, 72, 61, 50, 39, 28, 17 Kural:
- 1, 4, 7, 10, 13, 16, 19, 22 Kural:
- 150, 140, 120, 110, 90, 80 Kural:
- 51, 44, 37, 30, 23, 16, 9 Kural:

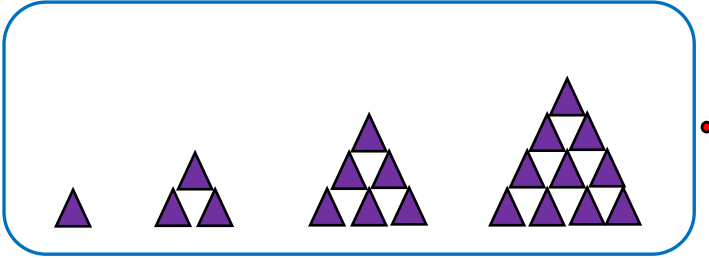
Aşağıdaki sayı örüntülerinin kuralını bulup örüntüleri üç adım genişletelim.




Aşağıdaki modelleri uygun sayı örüntüleri ile eşleştirelim.



15 11 7 3




4 10 16 22



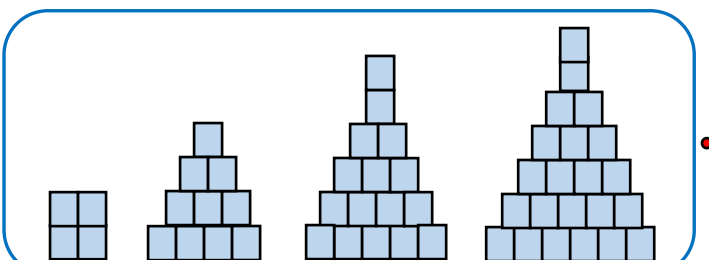
2 4 8 16



1 3 6 10



3 6 9 12



20 15 10 5